

Orientering om natten



Udarbejdet af
Uddannelses Udviklings Afdelingen

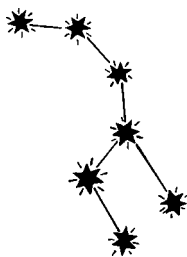
I samarbejde med
Forsvarets Gymnastikskole




Opgave 1 - 5

Opgave 1

Sæt et kryds på det sted, hvor du mener, at Nordstjernen er placeret i forhold til stjernebilledet Karlsvognen herunder !




Opgave 2

Det er nymåne, 
og du har front mod månen.

Hvor er solen i forhold til dig?

<input type="checkbox"/>	Foran dig
<input type="checkbox"/>	Bagved dig
<input type="checkbox"/>	Til højre for dig
<input type="checkbox"/>	Til venstre for dig

Opgave 3

Det er fuldmåne, 
og du har front mod månen

Hvor er solen i forhold til dig ?

<input type="checkbox"/>	Foran dig
<input type="checkbox"/>	Bagved dig
<input type="checkbox"/>	Til højre for dig
<input type="checkbox"/>	Til venstre for dig

Opgave 4

I hvilken retning er himlen lysest om natten ?

Opgave 5

Månen er i første kvarter



Du har front mod den.

	Foran dig
	Bagved dig
	Til højre for dig
	Til venstre for dig

Hvor er solen i forhold til dig ?

Opgave 6

Månen er i sidste kvarter



Du har front mod den.

	Foran dig
	Bagved dig
	Til højre for dig
	Til venstre for dig

Hvor er solen i forhold til dig ?

Opgave 7

I hvilken retning ses morgenrøden i maj måned ?

Opgave 8

Næsten alle gamle landsbykriker er bygget i retningen

_____ - _____, med tårnet placeret mod _____

Opgave 9

Fritstående træer hælder oftest mod

Opgave 10

Træers kroner er mest udviklede mod

Slut.

Start Kl. _____

Tidsforbrug _____

Slut kl. _____

Point/karakter _____

Navn _____
